

世界史 A

(解答番号 ~)

第1問 ナショナリズムは、近現代の世界各地において、極めて重要な役割を果たしてきた。世界各地のナショナリズムについて述べた次の文章A～Cを読み、下の問い(問1～10)に答えよ。(配点 25)

A ① 近代ナショナリズムは、18世紀末から19世紀にかけてヨーロッパと南北アメリカ大陸に現れて以降、多くの場合、ネーション(国民・民族)を基盤とする国家、すなわち② 「ネーション・ステート(国民国家)」の建設と強化を志向してきた。その際、国民国家を人々に意識させるために、③ シンボルや儀礼が盛んに用いられた。そうしたシンボルや儀礼の例として、国民国家を象徴する旗や歌、彫像など、また、ネーションの歴史のなかで重要とみなされた、建国や革命、戦争のような事件を記念する記念碑や祭典がある。

問1 下線部①に関連して、ヨーロッパのナショナリズム運動について述べた文として正しいものを、次の①～④のうちから一つ選べ。

- ① ドイツでは、農民政党であるブルシェンシャフトの運動が盛んになった。
- ② フランクフルト国民議会は終始、オーストリア中心のドイツ統一を求めることで一致していた。
- ③ 1860年代のポーランドでは、フランスの支配からの独立を目指す反乱が起こった。
- ④ マッツィーニの率いる「青年イタリア(青年イタリア党)」が、イタリア統一運動を進めた。

問 2 下線部②に関連して、国家の独立について述べた文として正しいものを、次の①～④のうちから一つ選べ。

- ① ベルギーは、フランスの七月革命の影響が及ぶなかで、オランダから独立した。
- ② アイルランドは、ヨーロッパにおける 1848 年の諸革命のなかで、イギリスから独立した。
- ③ ラトヴィアは、第一次世界大戦後に、オスマン帝国から独立した。
- ④ フィンランドは、ソ連の解体に伴って独立した。

世界史A

問 3 下線部③に関連して、次の図 a と b は、国民国家のシンボルを示す二つの例である。これらの図について述べた下の文章の空欄 **ア** と **イ** に入れる語の組合せとして正しいものを、下の①～④のうちから一つ選べ。 **3**



図 a



図 b

図 a は、**ア** における勝利を記念してドイツで建設されたもので、その百周年にあたる 1913 年に落成式が行われた。また、図 b は、フランスで 1878 年に設置された「共和国」像であり、その左手にあるのは、**イ** 共和政の下で 1875 年に制定された憲法である。

- ① アーライプツィヒの戦い イー第三
- ② アーライプツィヒの戦い イー第五
- ③ アータンネンベルクの戦い イー第三
- ④ アータンネンベルクの戦い イー第五

B アジアやアフリカでは、ナショナリズムはしばしば④外部からの侵略・支配に対する抵抗の中で形成されていった。次の文章は、⑤日本統治下の朝鮮で起こったある運動について、参加者の一人が回想したものである。(ニム＝ウェールズ・キム＝サン『アリランの歌』松平い子訳による。引用文は、一部書き改め、省略したところがある。)

私たちは先生に率いられて街に出、何千という他の学校の生徒や街の人々と隊^{たいご}伍を組み、歌ったりスローガンを叫んだりしながら町中を行進した。私は夢中になって終日食べることを忘れた。何百万という朝鮮人が、この三月一日には食を忘れたと思う。私たちが通ったとき、一人の白髪の老人がしゃがれた声で叫んだ、「見ろ、わしは死ぬ前に朝鮮の独立に会えるのだぞ！」。

⑥この運動に象徴される近代朝鮮のナショナリズムは、日本支配への抵抗を軸としていたが、⑦第二次世界大戦の終結以後には、南北分断という新たな難題に直面することになった。

問 4 下線部④に関連して、アジア・アフリカ諸地域の抵抗運動や民族運動について述べた文として誤っているものを、次の①～④のうちから一つ選べ。

4

- ① イランでは、カージャール朝の下で、タバコ＝ボイコット運動が起こった。
- ② スーダンでは、19世紀後半、マフディーの反乱が起こった。
- ③ 中国では、満州(満洲)事変に抗議して、五・三〇事件が起こった。
- ④ フィリピンでは、第二次世界大戦中に、抗日運動が起こった。

世界史A

問 5 下線部⑤について述べた文として正しいものを、次の①～④のうちから一つ
選べ。

- ① 朝鮮総督府が置かれ、初代総督として伊藤博文が赴任した。
- ② 朝鮮は、日本が明治維新以降初めて獲得した海外領土であった。
- ③ 日本による併合と同時に、創氏改名が実施された。
- ④ 第二次世界大戦中、日本への強制連行が行われた。

問 6 次の年表に示した a～d の時期のうち、下線部⑥の運動が起こった時期とし
て正しいものを、下の①～④のうちから一つ選べ。

1904年	日露戦争の開始
<input type="text" value="a"/>	
1910年	日本による韓国併合
<input type="text" value="b"/>	
1918年	第一次世界大戦の終結
<input type="text" value="c"/>	
1937年	日中戦争の開始
<input type="text" value="d"/>	
1945年	第二次世界大戦の終結

- ① a
- ② b
- ③ c
- ④ d

問 7 下線部⑦に関連して、第二次世界大戦後の国家の分断・分離や統一について述べた文として正しいものを、次の①～④のうちから一つ選べ。 7

- ① 朝鮮半島は、アメリカ合衆国と中国とによって分割占領された。
- ② ジュネーヴ休戦協定によって、南北ベトナムが統一された。
- ③ 緊張緩和が進むなか、1970年代に東西ドイツが統一された。
- ④ 1970年代に、パキスタンから分離してバングラデシュが独立した。

C 19世紀以降、⑧ヨーロッパの影響を受け、イスラム世界でもナショナリズムに基づく国家形成が始まった。しかし、そこでは国家の核となる「国民」の枠組みをめぐって多様な思想が生まれてくる。例えば⑨20世紀前半のトルコでは、イスラム教徒全体の一体性を重視するパン＝イスラム主義、中央アジアにまで広がるトルコ語の共通性に立脚したパン＝トルコ主義、居住地に根ざしたトルコ一國主義が見られた。1923年に建国されたトルコ共和国が、国立銀行の一つに⑩ヒットイトの名を選んだのも、居住地アナトリアを重視し、中央アジアのトルコ系や、他のイスラム教徒諸「民族」との差異化を図るトルコ一國主義の現れと見ることができる。

問 8 下線部⑧に関連して、イスラム世界における憲法の歴史について述べた次の文 a と b の正誤の組合せとして正しいものを、下の①～④のうちから一つ選べ。 8

a イランの立憲革命(立憲運動)は、イギリスとフランスの干渉によって挫折した。

b オスマン朝では、19世紀後半に、ミドハト憲法が発布された。

- ① a — 正 b — 正 ② a — 正 b — 誤
- ③ a — 誤 b — 正 ④ a — 誤 b — 誤

世界史A

問 9 下線部⑨の時期のイスラム世界で起こった出来事について述べた文として正しいものを、次の①～④のうちから一つ選べ。 9

- ① トルコでは、アラービー(オラービー) = パシャがスルタン制を廃止した。
- ② エジプトでは、第一次世界大戦後、ワフド党が反英民族運動を展開した。
- ③ アラビア半島では、第二次世界大戦後にサウジアラビアが建国された。
- ④ シリアは、イギリスの委任統治から独立した。

問10 下線部⑩に関連して、古代オリエントの歴史について述べた文として波線部の正しいものを、次の①～④のうちから一つ選べ。 10

- ① シュメール人は、都市国家ウルを建設した。
- ② ヒッタイトでは、ファラオを頂点とする統一国家がつけられた。
- ③ バビロニアは、エジプトを含むオリエントを初めて統一した。
- ④ フェニキア人は、ダマスカスを中心に、主に内陸交易で活躍した。

第 2 問 交通・輸送機関の歴史には、技術革新の側面だけではなく、政治・経済から人々の日常生活まで、社会の様々な姿とその変容を見いだすことができる。近代以降の交通や輸送機関の歴史について述べた次の文章 A～C を読み、下の問い(問 1～10)に答えよ。(配点 25)

A ①産業革命の進展は、交通機関の革新をもたらした。②鉄道の旅客営業運転は、1830年、イギリスのリヴァプールとマンチェスターの間で始まり、まもなくベルギーをはじめとしてヨーロッパ大陸にも普及した。ドイツでは、1835年にフルト・ニュルンベルク間の鉄道が営業を開始し、翌年、オーストリアでも、ロートシルト(ロスチャイルド)家が皇帝フェルディナント1世から鉄道建設の勅許を得た。鉄道の普及とともに、旅行は次第に容易となり、華麗な専用サロン客車(図 a 参照)で旅する王侯ばかりでなく、庶民にも、③鉄道旅行を楽しむ機会が生まれた。旅行者を迎える都市の玄関口である駅舎は、その④建築の豪華さを競った(図 b 参照)。



図 a バイエルン国王ルートヴィヒ 2 世のサロン客車



図 b パリ北駅駅舎

世界史A

問 1 下線部①に関連して、18・19世紀における技術革新について述べた文として誤っているものを、次の①～④のうちから一つ選べ。 11

- ① ワットは、蒸気機関を改良した。
- ② クロンプトンは、水力紡績機を発明した。
- ③ カートライトは、力織機を発明した。
- ④ スティーヴンソンは、蒸気機関車を実用化した。

問 2 下線部②に関連して、このリヴァプールとマンチェスターの間の鉄道の位置として正しいものを、次の地図中の①～④のうちから一つ選べ。 12



問 3 下線部③について述べた次の文の空欄 **ア** と **イ** に入れる都市の名と行事の名の組合せとして正しいものを、下の①～④のうちから一つ選べ。

13

トマス＝クックは、1840年代から鉄道を利用した団体旅行を企画・実施し始め、1851年に **ア** で開催された **イ** にも格安で団体旅行客を送り込んだ。

- ① **ア**—パ リ **イ**—第1回万国博覧会
- ② **ア**—パ リ **イ**—第2回万国博覧会
- ③ **ア**—ロンドン **イ**—第1回万国博覧会
- ④ **ア**—ロンドン **イ**—第2回万国博覧会

問 4 下線部④に関連して、ヨーロッパの建築について述べた文として正しいものを、次の①～④のうちから一つ選べ。 **14**

- ① ピサ大聖堂は、ロマネスク様式の建築である。
- ② ヴェルサイユ宮殿は、ロマネスク様式の建築である。
- ③ シャルトル大聖堂は、バロック様式の建築である。
- ④ パリのノートルダム大聖堂は、バロック様式の建築である。

世界史 A

B 19 世紀後半以降、⑤鉄道はヨーロッパから世界各地に急速に広まった。鉄道はその建設のために膨大な資本と労働力を必要としたので、鉄道建設の世界的展開は⑥国境を越えた資本や人の動きを左右する大きな要因の一つであったと考えられる。また、植民地や工業化の遅れた国では、列強の政治的・経済的影響力の下で鉄道が敷設された事例もしばしば見いだされる。鉄道網の発達、蒸気船の導入などによる⑦水上交通の発達とともに、世界の一体化を進め、社会や文化のありようにも大きな変化をもたらすことになった。

問 5 下線部⑤に関連して、次の図 a と b は、19 世紀半ばから 20 世紀初頭にかけて北アメリカ及びアフリカで敷設された鉄道の一部と、それが敷設された植民地や自治領の領域を示したものである。これらの鉄道や領域について述べた文として波線部の正しいものを、次ページの①～④のうちから一つ選べ。

15

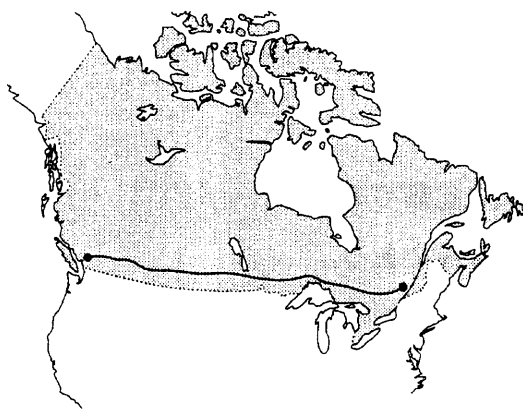


図 a

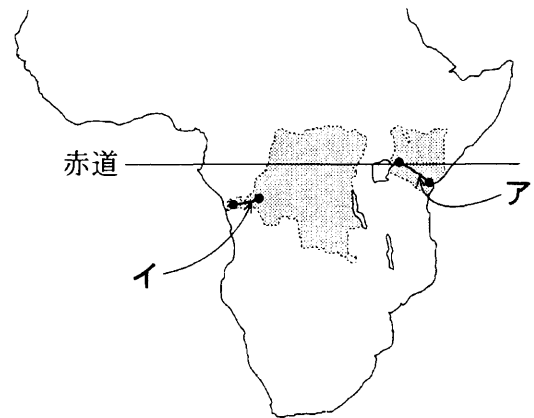


図 b

●—●は鉄道路線、 は鉄道が敷設された植民地や自治領の領域を示す。

- ① 図 a に示された鉄道が敷設された領域は、20 世紀にソヴィエト連邦の構成国の一つとなった。
- ② 図 a に示された鉄道は、18 世紀にオーストリアの植民地があった領域に敷設されたものである。
- ③ 図 b に示された鉄道アが敷設された領域は、1960 年代にポルトガルからの独立を達成した。
- ④ 図 b に示された鉄道イは、1884～85 年に開催されたベルリン会議でベルギー国王の支配権が認められた領域に敷設されたものである。

問 6 下線部⑥に関連して、19 世紀後半の国際的な資本の動きにかかわる出来事について述べた文として最も適当なものを、次の①～④のうちから一つ選べ。

16

- ① 日清戦争に勝利した日本は、清全土で独占的に資本投下を行えるようになった。
- ② シベリア鉄道の建設は、フランスからの投資を受けて行われた。
- ③ アメリカ合衆国は、ヤング案に基づいて、ヨーロッパに大規模な投資を行った。
- ④ 南米諸国は、欧米からの投資により、主として工業製品を輸出するようになった。

問 7 下線部⑦に関連して、歴史に名を残した船について述べた文として正しいものを、次の①～④のうちから一つ選べ。

17

- ① メイフラワー号は、ピューリタンを乗せて大西洋を横断した。
- ② ビーグル号は、ニュートンによる探検の際に使用された。
- ③ ポチョムキン号で、ドイツ軍水兵が反乱を起こした。
- ④ ルシタニア号の撃沈は、アメリカ合衆国の第二次世界大戦参戦の一因となった。

世界史 A

C 次の文章は、1930年代のアメリカ合衆国における社会変化について述べた、フレデリック＝ルイス＝アレン『シンス・イエスタディ』からの抜粋である。(藤久ミネ訳による。引用文は一部書き改め、省略したところがある。)

経営革新を図る⑧鉄道会社の中には、ジュラルミンやステンレス・スチールのすべすべの新しい流線型列車を走らせているところも出てきた。流線型とは言えば、一時的にだが、とにかくめっちゃくちゃに流行った。1934～35年に、一部の⑨自動車会社では、直線を見慣れた目に挑むかのように、球根に似てずんぐりと丸っこい曲線の車を生産した。⑩飛行機では、空で一晩眠っていればよい大陸横断旅行が日常茶飯事になった。

問 8 下線部⑧に関連して、アメリカ合衆国最初の大陸横断鉄道が開通する以前に起こったことについて述べた文として誤っているものを、次の①～④のうちから一つ選べ。

18

- ① カリフォルニアで金鉱が発見され、ゴールドラッシュが起こった。
- ② 日米和親条約が結ばれた。
- ③ 西部の支持を背景に、ジャクソンが大統領に選出された。
- ④ ハワイがアメリカ合衆国に併合された。

問 9 下線部⑨に関連して、自動車や車両について述べた文として正しいものを、次の①～④のうちから一つ選べ。

19

- ① フランスのダイムラーは、ガソリンエンジンを搭載した自動車を完成した。
- ② 19世紀半ばに、自動車の燃料の主流はガソリンへ移行した。
- ③ 19世紀末にアメリカ合衆国で、フォードが自動車の大量生産を実現した。
- ④ 第一次世界大戦では、戦車が使用された。

問10 下線部⑩に関連して、20世紀の航空・宇宙開発について述べた文として正しいものを、次の①～④のうちから一つ選べ。 20

- ① ライト兄弟は、20世紀初頭に飛行機を開発し初飛行に成功した。
- ② 第二次世界大戦で初めて、飛行機が兵器として利用された。
- ③ アメリカ合衆国によるスプートニクの打ち上げが、冷戦の一因となった。
- ④ アメリカ合衆国は、ケネディ大統領の在任中に、人類初の月面着陸を成功させた。

世界史A

第3問 歴史を学ぶ上では、英雄や天才、戦争や革命だけでなく、普通の人々の日常生活を見つめることも重要である。身近な暮らしについて述べた次の文章A～Cを読み、下の問い(問1～10)に答えよ。(配点 25)

A ①後漢が衰退し始めたころから、中国には、西方あるいは北方から独自の生活様式を持った人々が次々と流入し、その文化をもたらしてきた。例えば、食文化においては、小麦を用いた新奇な食べ物や調理法が伝えられ、②長安などの都市では、こうした食べ物が胡食などと呼ばれて流行した。小麦の需要の高まりとともに、特に③淮河(淮水)以北の華北の荘園においては、小麦栽培が促進され、また水力を利用した碾磑(製粉用の石臼)が導入された。こうして8世紀から9世紀に至ると、小麦はそれまでのアワなどに替わって主食の位置を占めるまでになったとも言われる。

問1 下線部①の王朝の歴史について述べた文として正しいものを、次の①～④のうちから一つ選べ。

- ① 杜甫や李白などの詩人が活躍した。
- ② 五胡十六国と総称される諸国を制して中国を統一した。
- ③ 班超が西域都護に任じられた。
- ④ 東西交易路の支配をめぐる突厥と争った。

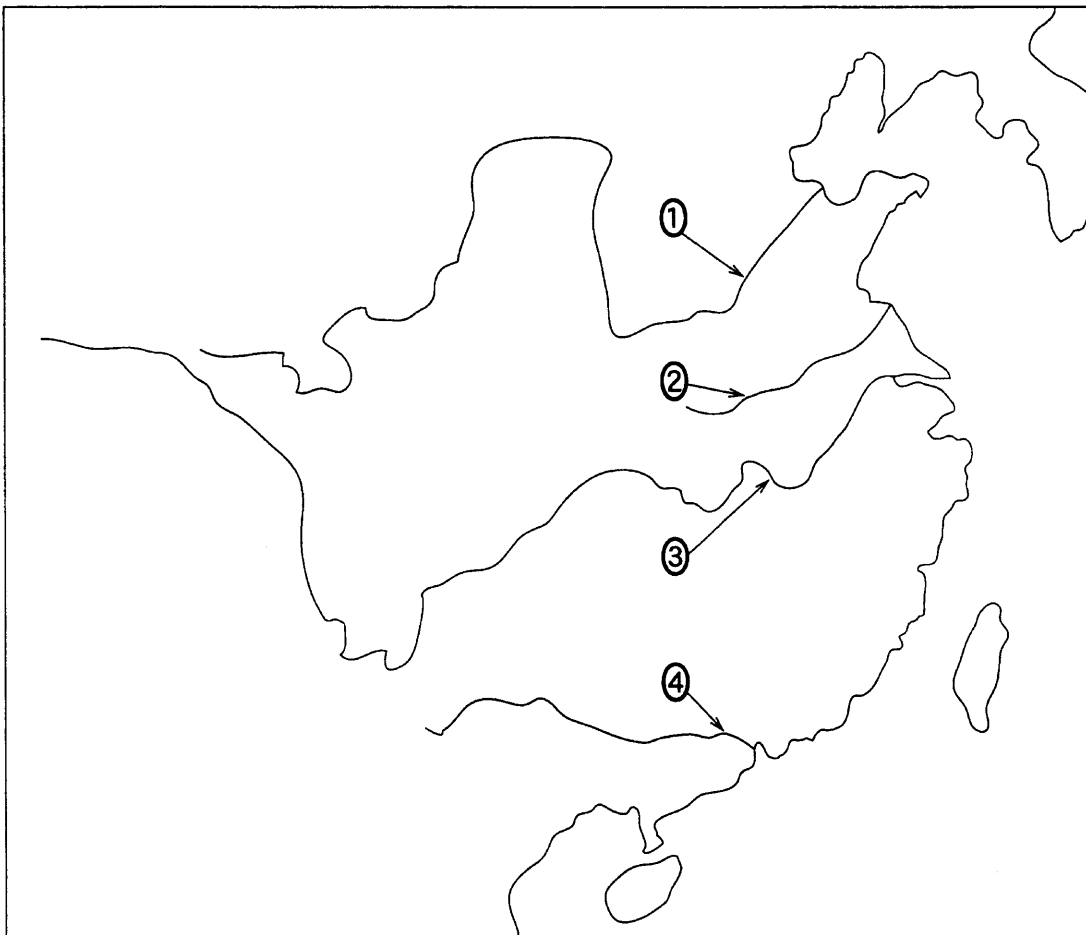
問2 唐の時代の下線部②の都市について述べた次の文aとbの正誤の組合せとして正しいものを、下の①～④のうちから一つ選べ。

- a ネストリウス派のキリスト教が伝えられた。
- b ソグド人の商人が訪れた。

- ① a — 正 b — 正 ② a — 正 b — 誤
- ③ a — 誤 b — 正 ④ a — 誤 b — 誤

問 3 次の文章は、下線部③の川に関連して述べたものである。この川の位置として最も適当なものを、下の地図中の①～④のうちから一つ選べ。 23

この川は、12世紀に金と南宋が対峙した際には、両国の国境となった。中国の気候・植生は、この川の南北で大きく異なる。古くから、比較的寒冷で乾燥した北では畑作が、比較的温暖で湿潤な南では稲作が行われるなど、それぞれの風土に適応した農耕が営まれてきた。



世界史 A

B アメリカ大陸に栄えた **ア** の都テノチティラン(図 a 参照)は、14 世紀半ば、テスココ湖に浮かぶ島に築かれた大都市であった。人口が 20 万から 30 万人に達したと推定されるこの都市には、巨大な市場が存在した。そこには、動植物・食料・薬草・日用品など各地から集められた様々な産品があふれかえっていたと言われ、当時の生活の一端をうかがうことができる(図 b 参照)。しかし、④ヨーロッパ人が世界各地へ進出するようになると、1521 年、**ア** は、**イ** の率いるわずか数百人のスペイン人によって滅ぼされ、⑤先住民の暮らしは激変した。その後、⑥アメリカ大陸は、ヨーロッパ諸国の植民地支配を受けることとなった。



図 a テノチティランの想像図

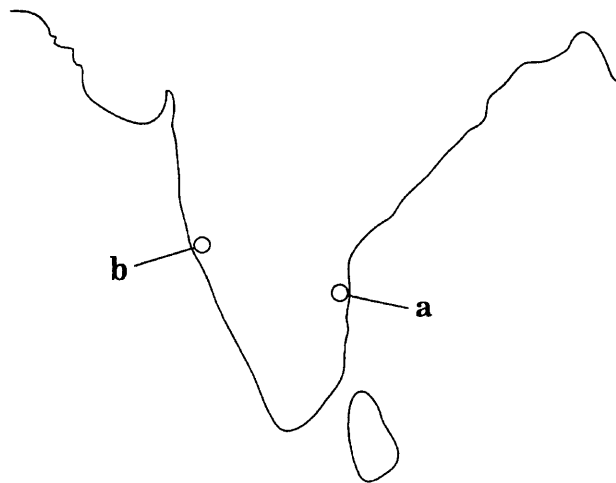


図 b 当時の市場の復元模型

問 4 空欄 **ア** と **イ** に入れる語の組合せとして正しいものを、次の①～⑥のうちから一つ選べ。 **24**

- ① アーインカ イーアメリゴ＝ヴェस्पッチ
- ② アーインカ イーピサロ
- ③ アーマヤ イーコルテス
- ④ アーマヤ イーアメリゴ＝ヴェस्पッチ
- ⑤ アーアステカ イーピサロ
- ⑥ アーアステカ イーコルテス

問 5 下線部④に関連して、南アジアに進出したポルトガルが、16世紀以降領有した都市の名とその地図中の位置 **a** と **b** の組合せとして正しいものを、下の①～④のうちから一つ選べ。 **25**



- ① ポンディシェリー a ② ポンディシェリー b
- ③ ゴア a ④ ゴア b

世界史A

問 6 下線部⑤に関連して、当時のアメリカ大陸について述べた文として誤っているものを、次の①～④のうちから一つ選べ。 26

- ① ヨーロッパからもたらされたトウモロコシの栽培が広まった。
- ② ヨーロッパからもたらされた疫病の流行が、先住民人口激減の一因となった。
- ③ ヨーロッパ人によって、馬がもたらされた。
- ④ ヨーロッパ人によって、先住民は鉱山労働を強制された。

問 7 下線部⑥に関連して、ラテンアメリカ諸国の独立について述べた文として正しいものを、次の①～④のうちから一つ選べ。 27

- ① 多くのラテンアメリカ諸国が共和国として独立するなか、ブラジルは帝国としてスペインから独立した。
- ② 独立運動で立ち上がった先住民は、独立後多くの国々でクリオーリョを排除して政治の実権を握った。
- ③ サン＝マルティンは、ラテンアメリカ諸国の独立に反対する運動を展開した。
- ④ オーストリアのメッテルニヒは、ウィーン体制の下、ラテンアメリカ諸国の独立に反対した。

C 近年の服飾史研究は、社会的・文化的性差の問題に光を当てた。例えば、肌着の社会史的な意義も明らかにされている。フランスの18世紀後半の女性は、今日のショーツにあたる下ばきを着けておらず、胴はコルセットで締めつけていた。綿製の下ばきが19世紀前半にイギリスから伝えられると、⑦サン＝シモンはその着用が女性に自由な立ち居振る舞いを許すことに注目し、これを推奨した。しかしその一般化は、⑧産業革命によって綿製品が普及した後の19世紀末のことであった。一方、コルセットはフランス革命期に一時着けられなくなるとはいえ、その後も19世紀を通じて女性の体を締め続けた。しかし⑨20世紀初頭、多くの女性たちが動きやすさを求めたので、コルセットは廃れていった。



画像

サン＝シモン主義者とされる女性


世界史A

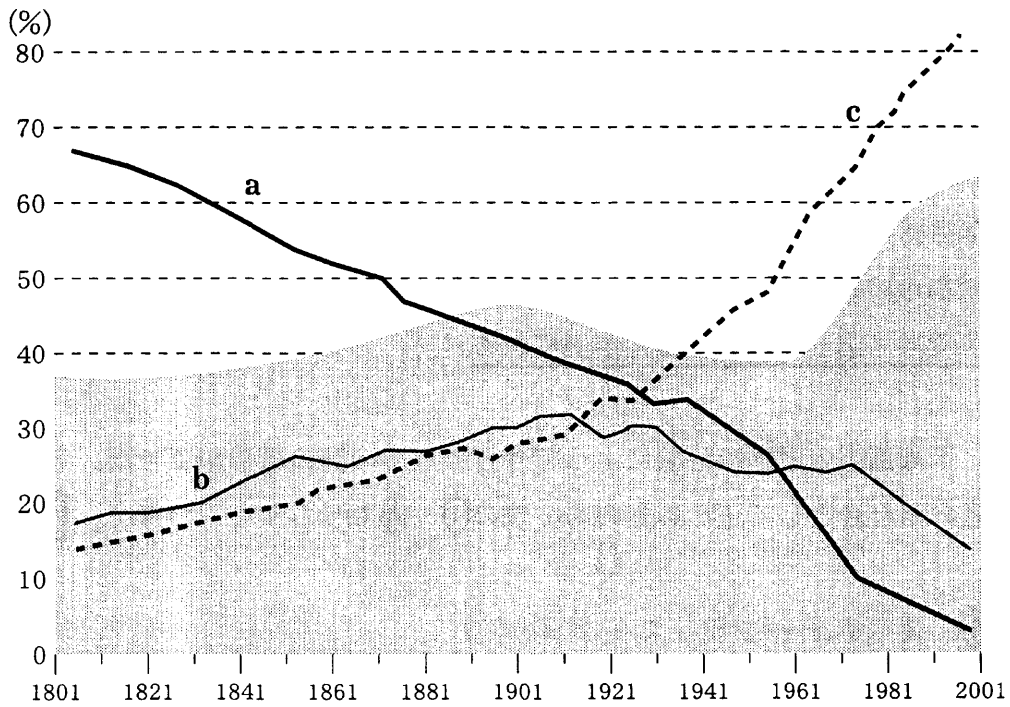
問 8 下線部⑦の人物について述べた文として正しいものを、次の①～④のうちから一つ選べ。 28


- ① 第一インターナショナルに参加した。
- ② 母国はネーデルラントで、人文主義者と呼ばれた。
- ③ クリミア戦争に参加した。
- ④ 空想的社会主義者と呼ばれた。

問 9 下線部⑧に関連して、18世紀から19世紀にかけて、産業革命の起こった順に国名を配列しているものとして最も適当なものを、次の①～④のうちから一つ選べ。 29

- ① フランス → イギリス → ベルギー
- ② イギリス → フランス → ロシア
- ③ フランス → イギリス → ロシア
- ④ イギリス → ロシア → フランス

問10 下線部⑨に関連して、次のグラフは、19世紀以降のフランスにおける女性の家庭外労働の変化を示したものである。グラフ中の  は家庭の外で働く女性の比率、折れ線は職種別の割合を示している。折れ線 a ~ c が示す職種の組合せとして正しいものを、下の①~④のうちから一つ選べ。 30



 は、就労可能な年齢の女性のうちに占める、家庭外労働に従事する女性の比率。

- | | | | |
|---|------------|------------|------------|
| ① | a — 農業 | b — 工業・建築業 | c — サービス業 |
| ② | a — サービス業 | b — 工業・建築業 | c — 農業 |
| ③ | a — 工業・建築業 | b — サービス業 | c — 農業 |
| ④ | a — サービス業 | b — 農業 | c — 工業・建築業 |

世界史A

第4問 国家統治のあり方は、世界史上、各地域の個性を映し出すかのように多様である。統治の体制やその担い手について述べた次の文章A～Cを読み、下の問い(問1～10)に答えよ。(配点 25)

A 西ヨーロッパでは、カール大帝の死後①フランク王国は分裂し、さらにそれぞれの王国内でも公や伯などの職務を担っていた貴族が、事実上地方ごとに独立した支配を行うようになっていった。フランス王国のアンジュー伯などの諸侯はその典型であった。また、彼らの家臣となった小貴族も、主君の権限を侵さない限り自ら統治権を行使できた。やがて11世紀以降になると、一部の②都市に高度な自治権が認められた。ただし、国王の威光も決して消え去ることはなく、諸侯や都市の完全な独立はあり得なかった。③12世紀以降、特にイギリスやフランスでは、国王の権力の強化が図られる。

問1 下線部①の王国の分裂によって今日の三つの国の原形ができた。それらの国名の組合せとして正しいものを、次の①～④のうちから一つ選べ。

31

- ① スペインーフランスードイツ
- ② イタリアーフランスードイツ
- ③ イタリアーフランスーイギリス
- ④ フランスードイツーイギリス

問2 下線部②に関連して、中世ヨーロッパの都市について述べた文として正しいものを、次の①～④のうちから一つ選べ。

32

- ① ギリシアでは、ポリスと呼ばれる都市国家が発達した。
- ② コンスタンティノーブルには、カトリック教会の中心として、教皇庁が置かれた。
- ③ 13世紀にアムステルダムは、北西ヨーロッパの商業と金融の中心になった。
- ④ ドイツ北部やバルト海沿岸部の諸都市を中心に、ハンザ同盟が組織された。

問 3 下線部③に関連して、15世紀以前のイギリスやフランスの国王について述べた文として正しいものを、次の①～④のうちから一つ選べ。 33

- ① フランス国王は、「朕は国家なり」と述べて、中央集権的な体制を確立した。
- ② イギリス国王は、人民憲章を発布した。
- ③ フランス国王は、神聖ローマ皇帝を兼ねた。
- ④ イギリス国王は、大憲章(マグナ=カルタ)を認めた。

B 明清時代の中国では、④皇帝を頂点とした官僚制が発達し、それに基づく政治が行われていた。ただし、実際の地方政治は、中央から派遣された官僚と、「郷紳」や「紳士」などと呼ばれた人々との間の対抗関係や相互連携を背景に進められていたと言える。「郷紳」や「紳士」は、⑤明代中期以降に地方の有力者として台頭してきた人々で、彼らのなかには、⑥儒学の素養を有する知識人、官僚経験者や科挙合格者が多く含まれていた。清代後期になると、⑦地域防衛や公共事業など、地方政治により深くかかわる者も現れた。

問 4 下線部④に関連して、中国の歴代王朝が施行した諸制度について述べた文として正しいものを、次の①～④のうちから一つ選べ。 34

- ① 秦は、統一を達成した後、全国に郡県制を施行した。
- ② 唐は、行政法である律と刑法である令に基づく政治体制を整備した。
- ③ 明は、三省六部を創設した。
- ④ 科挙制度は、清の滅亡と同時に廃止された。

世界史 A

問 5 下線部⑤の王朝の首都について述べた文として正しいものを、次の①～④のうちから一つ選べ。ただし、都市の名は現在の都市の名とする。 35

- ① 建国時と滅亡時のいずれも、北京に首都を置いていた。
- ② 建国時と滅亡時のいずれも、上海に首都を置いていた。
- ③ 建国時には南京に首都を置き、滅亡時には北京に首都を置いていた。
- ④ 建国時には北京に首都を置き、滅亡時には上海に首都を置いていた。

問 6 下線部⑥に関連して、儒学あるいは儒教について述べた文として正しいものを、次の①～④のうちから一つ選べ。 36

- ① 孔子は、焚書坑儒によって処罰された。
- ② 漢の武帝は、朱子学を国家の正統な学問とした。
- ③ 王陽明(王守仁)は、知行合一の学説を否定した。
- ④ 陳独秀は、雑誌『新青年』で儒教道徳を批判した。

問 7 下線部⑦に関連して、中国における軍事や軍制の歴史について述べた文として正しいものを、次の①～④のうちから一つ選べ。 37

- ① 宋は、千戸制と呼ばれる軍事組織を創始した。
- ② 清は、明の軍事組織であった八旗を継承した。
- ③ 曾国藩は、義勇軍(郷勇)を組織した。
- ④ 中国国民党は、紅軍を組織した。

C 16世紀以降のイギリスの王権は、地方統治を無給の治安判事にゆだねたが、彼らは主として⑧ジェントリ(地主)層であった。また、地域の代表として議会のメンバーとなり国政に参画したのも、ジェントリの中の有力な人々であった。しかしその議会在王と鋭く対立した場合、どちらの意志が優越するののかについては、確定していなかった。議会の優越が定まるのは⑨名誉革命を経てのことであって、その結果ジェントリ層は、従来の地域社会の支配に加え、国政への政治的発言権もより確かなものとするのである。この体制は、⑩19世紀後半にも命脈を保っていた。

問 8 下線部⑧の階層の人物として、ピューリタン革命で活躍したクロムウェルが挙げられる。この人物について述べた文として誤っているものを、次の①～④のうちから一つ選べ。 38

- ① 護国卿となった。
- ② 鉄騎隊(軍)を率いた。
- ③ アイルランドを征服した。
- ④ 立憲君主政を確立した。

問 9 下線部⑨の革命の結果出された文書や法令の名として正しいものを、次の①～④のうちから一つ選べ。 39

- ① 権利の章典
- ② 権利の請願
- ③ 自営農地法(ホームステッド法)
- ④ 航海法

世界史A

問10 下線部⑩の時期にイギリスで起こった事柄について述べた文として正しいものを、次の①～④のうちから一つ選べ。

40

- ① 第一回選挙法改正が行われ、腐敗選挙区が是正された。
- ② ラッドライト運動が起こった。
- ③ 自由党と保守党が交互に政権を担当した。
- ④ 審査法が廃止された。

問題と解答は、独立行政法人 大学入試センターホームページより転載しています。
ただし、著作権上の都合により、一部の問題・画像を省略しています。

日本一の学校情報



<http://www.js88.com>

インターネット塾・予備校情報サイト



<http://jyuku.js88.com>