

世界史 B

(解答番号 ~)

第1問 聖地や霊場への巡礼は、その地に関する情報の蓄積や交通の発達とともに盛んになった。信仰の地を訪れる旅と、それが引き起こした社会現象について述べた次の文章A～Cを読み、下の問い(問1～9)に答えよ。(配点 25)

A イベリア半島北西部のガリシア地方に位置するサンティアゴ＝デ＝コンポステラは、①キリスト教の重要な巡礼地の一つである。9世紀に、イエスの使徒の一人ヤコブの墓とされるものが発見され、キリスト教の聖地となり、ヨーロッパ各地から巡礼者が多く訪れるようになった。「サンティアゴの道」と呼ばれる巡礼路が形成され、ヤコブは、②巡礼者や旅人の守護聖人として崇敬を集めることになる。その一方で、イベリア半島における③レコンキスタ(国土回復運動)が盛んになると、異教徒に対して戦うキリスト教徒の守護聖人として位置づけられるようにもなった。



サンティアゴ＝デ＝コンポステラの聖堂にあるヤコブの像
(左が巡礼者としてのヤコブ、右が異教徒と戦うヤコブ)

問 1 下線部①について述べた文として正しいものを、次の①～④のうちから一つ
選べ。

- ① イスラーム教を批判したイエスの教えをもとに、成立した。
- ② 『新約聖書』を教典とする。
- ③ ディオクレティアヌス帝によって国教とされた。
- ④ クレルモン教会会議(公会議)において、ウイクリフが異端とされた。

問 2 下線部②に関連して、旅行や航海について述べた文として正しいものを、次
の①～④のうちから一つ選べ。

- ① コロンブスは、スペインのイサベル女王の後援を受け、カリカットに到達した。
- ② クックは、ポルトガルのジョアン2世の後援を受け、太平洋の島々を探検した。
- ③ カブラルがブラジルに漂着し、そこをポルトガル領とした。
- ④ リヴィングストンは、アフリカ内陸部を探検し、アクスム王国を訪れた。

問 3 下線部③が行われた時期のイベリア半島について述べた文として正しいもの
を、次の①～④のうちから一つ選べ。

- ① アッバース朝から独立した西ゴート王国の王が、カリフを称した。
- ② イベリア半島西部にアラゴン王国が建国された。
- ③ イベリア半島に進出したムワッヒド朝は、ムラービト朝に滅ぼされた。
- ④ ナスル朝が、グラナダにアルハンブラ宮殿を建てた。

世界史B

B カンボジアにある④アンコール=ワットの石柱には、参詣人の落書きが少なくない。17世紀前半、日本の肥前、肥後、堺などからの来訪者による墨書もいくつかある。なかでも森本右近太夫一房のもの(下図参照)が有名で、彼は1632(寛永9)年に、父母の後世を願ひ、仏像4体を奉納したことを書き残した。この折に一房は、伽藍の配置を写し取り、『平家物語』で有名な祇園精舎の図として持ち帰ったという。当時日本からの参詣人は、アンコール=ワットを、インドに存在した、⑤ガウタマ=シッダールタゆかりの修行場と勘違いしていたようである。ともあれ「仏教の聖地」として、この地を訪れることができたのは、⑥当時朱印船が日本と東南アジアの間を行き来していたからにほかならない。



アンコール=ワットの石柱に残る森本右近太夫一房の墨書

問 4 下線部④について述べた文として最も適当なものを、次の①～④のうちから一つ選べ。 4

- ① シュリーヴィジャヤ王国によって建設された。
- ② インドのヴァルダナ朝と同時期に建設された。
- ③ チャンドラグプタ 2 世によって建設された。
- ④ 当初はヒンドゥー寺院として建設された。

問 5 下線部⑤の人物が説いた教えの^{でんぱ}伝播について述べた文として正しいものを、次の①～④のうちから一つ選べ。 5

- ① インドではマウリヤ朝時代に、大乘仏教が広まった。
- ② 中国では唐の時代、玄奘がインドに旅し、仏典を持ち帰った。
- ③ インドネシアのパガン朝で、上座部仏教が広まった。
- ④ 朝鮮半島には、朝鮮(李朝)時代に初めて伝わった。

問 6 下線部⑥に関連して、16 世紀後半から 17 世紀前半までの東南アジアについて述べた文として正しいものを、次の①～④のうちから一つ選べ。 6

- ① マニラは、スペインの交易拠点であった。
- ② ヴェトナムに、陳朝が成立した。
- ③ マレー半島では、マラッカ王国が海上交易で繁栄していた。
- ④ タイでは、スコータイ王朝が交易で繁栄していた。

世界史B

- C ⑦ イスラーム教の巡礼は、宗教的意義だけでなく、政治的にも重要な意味を持った。またイスラーム教の拡大や交通手段の発達によって、遠方からの巡礼者も増加した。日本人最初の⑧ メッカへの巡礼者とされる山岡光太郎は、ロシア帝国による支配からのイスラーム教徒の解放を目指すウラマー(イスラーム学者)との交流などを通じて、イスラーム教への関心を深めた。彼はそのウラマーの導きで行った初めての巡礼の旅で、1909年に南アジア経由でメッカを訪れた。彼はこのメッカ訪問の際、⑨ 日露戦争の「戦勝国民」として予期しない歓迎を受けたことを、後に自著に記している。

問 7 下線部⑦に関連して、次の文章中の空欄 に入れる語として正しいものを、下の①～④のうちから一つ選べ。

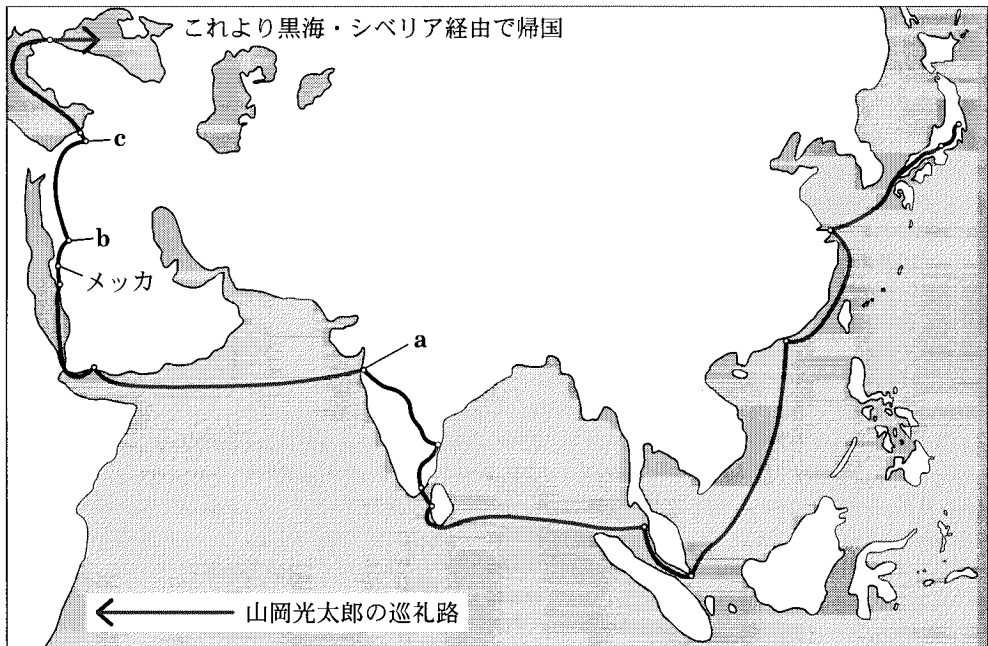
18世紀には、アラビア半島で、ムハンマドの教えに帰ることを主張する の運動が始まった。 の運動は巡礼者を經由して、各地でイスラーム改革運動が広がるきっかけとなった。

- ① 十二イマーム派
- ② ネストリウス派
- ③ ワッハーブ派
- ④ 長老派

問 8 下線部⑧の人物が巡礼の際に経由した都市について述べた次の文アとイと、その場所を示す下の地図中の位置 a ~ c との組合せとして正しいものを、下の①~⑥のうちから一つ選べ。 8

アームハンマドはこの町にヒジュラを行った。

イーウマイヤ朝の都として繁栄した。



- ① アー a イー b
- ② アー a イー c
- ③ アー b イー a
- ④ アー b イー c
- ⑤ アー c イー a
- ⑥ アー c イー b

世界史B

問 9 下線部⑨について述べた文として正しいものを、次の①～④のうちから一つ
選べ。

9

- ① この戦争は、血の日曜日事件をきっかけに起こった。
- ② この戦争の結果、日本は台湾・澎湖諸島を獲得した。
- ③ この戦争で調停を行ったアメリカ合衆国大統領の時に、ハワイがアメリカ合衆国に併合された。
- ④ この戦争の講和条約で、日本は韓国(朝鮮)に対する指導権(優越権)を認められた。

世界史B

第2問 歴史の中で、人間は様々な生物とかかわりを持ってきた。とりわけ家畜化された動物とは深い関係にあり、それは社会や文化だけではなく、ときには国家のあり方にすら大きな影響を及ぼすことがある。人間と家畜との関係について述べた次の文章A～Cを読み、下の問い(問1～9)に答えよ。(配点 25)

A 馬は6000年ほど前に家畜化され、前2千年紀には戦車を引く馬が登場した。その後、手綱につながれる馬銜はみの改良によって騎乗が普及すると(下図参照)、ユーラシア大陸には①騎馬遊牧民が出現した。彼らの神出鬼没ぶりは農耕民の定住社会にとって大きな脅威となり、それに対抗するために騎馬軍団が組織されることもあった。汗血馬を求めた②漢の武帝のように良馬を求める為政者も現れ、馬は農耕民と遊牧民との間の交易の重要な品目となった。また、③モンゴル帝国は強力な騎馬軍団によって版図ひらを拡げ、駅伝制を整備したため、ユーラシア規模で人と物資の往来が盛んになった。



手綱と馬銜を用いた騎乗を示す天幕覆い(前5世紀)

問 1 下線部①に関連して、6世紀に台頭し、国家を築いた騎馬遊牧民として正しいものを、次の①～④のうちから一つ選べ。 10

- ① スキタイ
- ② 突厥
- ③ 月氏
- ④ 匈奴

問 2 下線部②の皇帝の事績として正しいものを、次の①～④のうちから一つ選べ。 11

- ① 洛陽に遷都し、内政を重視した。
- ② 塩・鉄などを専売品とし、また物価の調整と安定に努めた。
- ③ 文字・度量衡・貨幣を統一した。
- ④ 郡県制を敷き、三省・六部を設けた。

問 3 下線部③に関連して、モンゴル人の支配下における出来事について述べた文として誤っているものを、次の①～④のうちから一つ選べ。 12

- ① オゴタイ＝ハンは金を滅ぼし、カラコルムに都を置いた。
- ② 元では、イスラーム世界の科学の影響で、授時暦が作成された。
- ③ 元の支配下では、漢人が重用され、西域出身の色目人は蔑視された。
- ④ 従来の大運河が補修され、また大都に至る新運河が建設された。

世界史B

B 羊の家畜化については二つの説がある。一つは④約 9000 年前の西アジアで、不安定な農耕経済を補う目的で行われたのが最初とする説である。もう一つは、内陸アジアの狩猟民が野生羊の群れに追従するなかで、搾乳と去勢の技術を獲得することによって家畜を管理する遊牧が成立したとする説である。いずれにしても、家畜化された羊は、「歩く」携行食料として、またその毛が⑤毛織物の原料として、農耕民からも遊牧民からも重宝された。モンゴルでは、羊の血を大地に流すことがタブー視されており、それは、⑥チンギス=ハンが、「イスラーム教のやり方と違えるように」と法令で定めたためと信じられている。このように、羊との関係に自然観・宗教観が反映されることもあった。

問 4 下線部④の時期の出来事について述べた文として最も適当なものを、次の

①～④のうちから一つ選べ。 13

- ① シュメール人の都市国家が形成され始めた。
- ② ネアンデルタール人が出現した。
- ③ 青銅器時代が始まった。
- ④ 氷河期が終わり、気候が温暖化した。

問 5 下線部⑤に関連して、ヨーロッパにおける羊毛生産について述べた次の文章中の空欄 ア と イ に入れる語の組合せとして正しいものを、下の

①～④のうちから一つ選べ。 14

16 世紀前半のイギリスでは、フランドル地方の ア への毛織物輸出が急増したため、羊毛増産のために共有地をなくし、耕地を牧場に転換する囲い込みが広がった。この結果、経済は活発になり、イ と呼ばれる地主層がぼつこう勃興した。

- | | | |
|---|--------------------|---------|
| ① | アーアントウェルペン(アントワープ) | イーヨーマン |
| ② | アーアントウェルペン(アントワープ) | イージェントリ |
| ③ | アーハンプルク | イーヨーマン |
| ④ | アーハンプルク | イージェントリ |

問 6 下線部⑥に関連して、チンギス=ハンの時代以後に成立した宗教として正しいものを、次の①～④のうちから一つ選べ。

15

- ① 道 教
- ② キリスト教
- ③ シク教
- ④ 仏 教

世界史B

C 豚がサンタクロースの橇そりを引くクリスマスカードの絵は、豚とヨーロッパの人々との身近なかかわりを示す一例と言えよう(下図参照)。近代になり畜舎で飼育される以前、豚は⑦農村では森で放し飼いにされ、都市の中も走り回っていた。冬を迎えるころ、肥えた豚は捕えられ、塩漬け肉やソーセージにされた。他方、ユダヤ教やイスラーム教の戒律はその肉食を禁じている。⑧19世紀後半のインドでは、植民地支配に対する大規模な反乱が起こったが、銃の弾薬包に豚の脂が使われたといううわさにイスラーム教徒の兵士が反発したことが、そのきっかけの一つになったと言われる。



20世紀前半のフィンランドで作成されたクリスマスカード

問7 下線部⑦に関連して、ヨーロッパにおける農業や農民について述べた文として最も適当なものを、次の①～④のうちから一つ選べ。 16

- ① 6世紀に三圃制農法が普及し、農業生産を増大させた。
- ② 黒死病(ペスト)の流行が、12世紀に農業人口を激減させた。
- ③ ジャックリーの乱と呼ばれる農民一揆が、14世紀にフランスで起こった。
- ④ 農場領主制(グーツヘルシャフト)では、東欧へ輸出する穀物が生産された。

問 8 下線部⑧について述べた文として最も適当なものを、次の①～④のうちから一つ選べ。 17

- ① この反乱は、シパーヒー(セポイ)の反乱とも呼ばれる。
- ② この反乱の渦中で、ガンディーは非暴力・不服従運動を展開した。
- ③ この反乱の鎮圧に、常勝軍が活躍した。
- ④ この反乱の後、ヴィクトリア女王がムガル帝国の皇帝も兼ねた。

問 9 同じく下線部⑧に関連して、第二次世界大戦後の植民地の独立について述べた次の文 a と b の正誤の組合せとして正しいものを、下の①～④のうちから一つ選べ。 18

- a イラクが独立した。
- b モザンビークが独立した。

- ① a—正 b—正
- ② a—正 b—誤
- ③ a—誤 b—正
- ④ a—誤 b—誤

世界史B

第3問 国家は建国にまつわる神話や象徴を用いたり、理念を掲げたりしてその正統性を主張してきた。このような国家の神話や象徴、理念について述べた次の文章A～Cを読み、下の問い(問1～9)に答えよ。(配点 25)

A 前漢の賈誼^{かぎ}は、始皇帝について「自分の権力を増大させ、刑法を過酷にし、武力を優先して仁義の道を後回しにし、暴虐を天下を統治する優先手段とした」と、その「法治」を非難している。①明の周敬心は「国の繁栄の長短は、徳が厚いか薄いかによる。②漢・唐・宋は長く、秦・隋などは短命であったが、政治が道理にかなえば長く続き、背けば短くなるのだ」と言う。つまり、国家の命運を決めるのは、支配者の持つ「徳」であるとされた。政権奪取は武力によったとしても、平和な治世を実現するのは皇帝や王朝の持つ優れた徳性にあると考えられていたのである。③20世紀前半に清朝が滅ぶまで、中国に長く続いた「徳治主義」の理念がそこに見られる。

問1 下線部①の時代に起こった出来事について述べた次の文章中の空欄 と に入れる人の名の組合せとして正しいものを、下の①～④のうちから一つ選べ。

明代の後半になると、ヨーロッパから多くの宣教師が中国を訪れるようになった。 によって設立されたイエズス会(ジェズイット教団)に属する は、布教にとどまらず、『坤輿万国全図』^{こんよばんこくぜんず}を作成して、広い世界の全体の姿を中国に紹介する役割も担った。

- | | | |
|---|---------------|-----------|
| ① | アーツヴィングリ | イーマテオ＝リッチ |
| ② | アーツヴィングリ | イーミュンツァー |
| ③ | アーイグナティウス＝ロヨラ | イーマテオ＝リッチ |
| ④ | アーイグナティウス＝ロヨラ | イーミュンツァー |

問 2 下線部②に関連して、唐の滅亡から宋の建国までの、短命な王朝が交代し、小国が分立した時代の名として正しいものを、次の①～④のうちから一つ選べ。


- ① 戦国時代
- ② 五胡十六国時代
- ③ 南北朝時代
- ④ 五代十国時代

問 3 下線部③の時期に起こった出来事について述べた文として誤っているものを、次の①～④のうちから一つ選べ。

- ① 外モンゴルは、辛亥革命の際、独立を宣言した。
- ② 中国政府は、ヴェルサイユ条約の調印を拒否した。
- ③ 孫文によって、「連ソ・容共・扶助工農」の方針が打ち出された。
- ④ 台湾で鄭氏一族が、清朝に降伏した。

世界史B

B アメリカ合衆国の建国は、様々な神話に彩られている。例えばジョージ＝ワシントンの依頼で、ベッツィ＝ロスという女性が④アメリカ合衆国の国旗である星条旗を作ったという話は、独立から百年近くたって語られ始め、やがて広く信じられるようになった伝説とされる(下図参照)。また今日、国立公文書館に収められている⑤独立宣言書も、独立記念日となった7月4日に作られてはおらず、翌月に入ってから文書への署名がなされた。しかし独立宣言50周年の7月4日に元大統領のアダムズとジェファソンがともに死去し、この日付はさらなる神聖さを獲得したのである。⑥モンロー大統領も後に、独立宣言55周年の7月4日に死去している。



ベッツィ＝ロスが作ったとされる星条旗

問4 下線部④について、図の星条旗には13個の星と13本のストライプがあらわされており、アメリカ合衆国として独立した13の植民地を表している。この13植民地に含まれる植民地の名称として誤っているものを、次の①～④のうちから一つ選べ。 22

- ① マサチューセッツ
- ② ニューヨーク
- ③ ヴァージニア
- ④ フロリダ

問5 下線部⑤に関連して、アメリカ独立革命について述べた文として正しいものを、次の①～④のうちから一つ選べ。 23

- ① トマス＝ペインが『コモン＝センス』を発表した。
- ② ジェファソンが13植民地の軍の総司令官に任命された。
- ③ 武装中立同盟にイギリスが参加した。
- ④ ヨークタウンの戦いでイギリス軍が勝利した。

問6 下線部⑥の大統領について述べた次の文章中の空欄 ア と イ に入る語の組合せとして最も適当なものを、下の①～④のうちから一つ選べ。

24

1823年12月、連邦議会に於て年次教書において、ア と イ との相互不干渉などの外交方針を唱えた。これがモンロー宣言と言われている。

- ① アーアメリカ大陸 イーアジア
- ② アーアメリカ大陸 イーヨーロッパ
- ③ アーアフリカ大陸 イーアジア
- ④ アーアフリカ大陸 イーヨーロッパ

世界史B

- C ⑦ フランス革命期には、パリを舞台として、共和国という新しい国家理念が表現された。サント＝ジュヌヴィエーヴ教会は「パンテオン(万神殿)」となり、⑧ 啓蒙思想家や革命家を祀る記念墓所として、彼らを神話化する場となった(下図参照)。パリの中心部を横断する大通りによって、バステューユ監獄の跡地と革命広場(現在のコンコルド広場)とを結び付け、都市空間の中で革命を象徴化することなども構想された。この都市計画は未完に終わったが、王政復古や二度にわたる帝政を挟みながらも、共和政の理念は次第にフランスに定着し、現在の⑨ 第五共和政に至っている。



パンテオン

問 7 下線部⑦の時期の議会や政府について述べた文として正しいものを、次の

①～④のうちから一つ選べ。 25

- ① 国民議会(憲法制定国民議会)は、オーストリアに宣戦を布告し、戦争を開始した。
- ② 立法議会は、ブリュメール 18 日のクーデタによって倒された。
- ③ 国民公会は、革命暦(共和暦)を制定した。
- ④ 総裁政府は、国王を処刑し、共和政を宣言した。

問 8 下線部⑧について述べた文として正しいものを、次の①～④のうちから一つ

選べ。 26

- ① モンテスキューは、『法の精神』を著し、三権分立を説いた。
- ② ルソーは、モリエールとともに、『百科全書』を編纂した。
- ③ ラファイエットは、『第三身分とは何か』を著した。
- ④ ケネーは、『経済表』を著し、重商主義を唱えた。

問 9 下線部⑨の時期におけるフランスの対外政策について述べた文として正しい

ものを、次の①～④のうちから一つ選べ。 27

- ① ルール地方を占領した。
- ② 五国同盟を結んだ。
- ③ アルジェリアの独立を認めた。
- ④ メキシコに出兵した。

世界史B

第4問 政治的・経済的な目的や宗教的な信条を共にする人々は、様々な形で結び付きを模索してきた。それぞれの時代や地域に特有な同盟や結社の形について述べた次の文章A～Cを読み、下の問い(問1～9)に答えよ。(配点 25)

A 古来ヨーロッパでは、共通の敵に対する攻撃や防衛の手段として、同盟関係が築かれていた。①古代ギリシアでは、アテネやスパルタなどをそれぞれ盟主として、都市国家(ポリス)の間で同盟が結ばれた。西ローマ帝国が崩壊した後の西ヨーロッパでは、②フランク王国がいち早くローマ教会と結び付き(下図参照)、それによってフランク王国は、他のゲルマン諸王国に先んじて、新たな権威と権力基盤を獲得できた。世俗権力の援助を必要としていたローマ教皇と、利害が一致したのである。またその後、③神聖ローマ帝国においても様々な利害が交錯し、しばしば皇帝の政策をめぐって、あるいは宗派对立のなかで、多様な同盟が取り結ばれることになった。



フランク人の王クローヴィスの洗礼を描いた絵

問 1 下線部①に関連して、スパルタを盟主として結ばれた同盟の名として正しいものを、次の①～④のうちから一つ選べ。 28

- ① デロス同盟
- ② ペロポネソス同盟
- ③ コリントス(コリント)同盟
- ④ 四国同盟

問 2 下線部②に関連して、フランク王国やその後の東フランク王国の王について述べた次の文 a～c が、年代の古いものから順に正しく配列されているものを、下の①～⑥のうちから一つ選べ。 29

- a オットー 1 世が、ローマ皇帝位を授けられた。
- b クローヴィスが、アタナシウス派(カトリック)に改宗した。
- c ピピンが、王位についた。

- | | |
|-------------|-------------|
| ① a → b → c | ② a → c → b |
| ③ b → a → c | ④ b → c → a |
| ⑤ c → a → b | ⑥ c → b → a |

問 3 下線部③について述べた文として正しいものを、次の①～④のうちから一つ選べ。 30

- ① 北イタリアの諸都市は、ロンバルディア同盟を結んで皇帝と争った。
- ② カトリック勢力は、シュマルカルデン同盟を結んで皇帝と争った。
- ③ 諸侯たちは、大空位時代を終わらせるためにユトレヒト同盟を結んだ。
- ④ 神聖ローマ皇帝は、ビザンツ皇帝とともに三帝同盟を提唱した。

世界史B

B ヨーロッパにおける啓蒙思想は、人間理性と個人の良心を認識と行動の根拠とする新しい世界観をもたらした。これを知的背景として、自立した市民たちが自由意志に基づいて団体を結成し、平等な資格で規約を結び、代表を選出するような新たな人の結び付き方が生み出された。そのような市民たちの結社は、④19世紀の自由主義を支え、1848年革命では、ヨーロッパの諸都市で「結社の自由」が要求された。ヨーロッパにおける⑤立憲政治・議会制の発展は、このような結社の政治文化を抜きにして考えることはできない。19世紀後半になると、結社活動は、自らの利益を守ろうとする農民や⑥労働者にも広がり、これらの人々の代表も議会へ送り出された。

問 4 下線部④について述べた文として正しいものを、次の①～④のうちから一つ選べ。 31

- ① ウィーン体制下のドイツでは、自由と統一を求めるカルボナリが結成された。
- ② 七月革命の結果、ベルギーがフランスから独立した。
- ③ イギリスでは、審査法(審査律)が制定されて、非国教徒が公職に就く道が開かれた。
- ④ コシュート(コッシュュート)は、ハンガリーの1848年革命(三月革命)を指導した。

問 5 下線部⑤について述べた文として誤っているものを、次の①～④のうちから一つ選べ。 32

- ① ロシアでは、十一月(十月)革命に際し、皇帝が国会(ドゥーマ)の開設を約束した。
- ② イギリスでは、数次にわたる選挙法改正で、選挙権が拡大された。
- ③ ドイツ帝国では、男性普通選挙制による帝国議会が置かれた。
- ④ フランスでは、普仏戦争(プロイセン＝フランス戦争)の敗北後、第三共和政が成立した。


問 6 下線部⑥に関連して、ヨーロッパの労働運動や社会主義運動について述べた文として正しいものを、次の①～④のうちから一つ選べ。

33

- ① フーリエらは、第1インターナショナルを結成した。
- ② ロシアに成立したソヴィエト政権は、第2インターナショナルを設立した。
- ③ マルクスとエンゲルスは、『共産党宣言』を発表した。
- ④ ビスマルクは、社会主義者を支援した。

世界史B

C 中国には、後漢末に黄巾の乱を起こした太平道をはじめ、宗教を中核とする秘密結社が多い。宋代以降、弥勒菩薩が地上に降りて人々を救済するという白蓮教が広まり、現体制に対する革命の要素を持つ反乱が頻発する。元末には⑦が起り、その中から頭角を現した人物が明朝を開いている。清代には、⑧乾隆帝の退位の年に白蓮教徒の乱が勃発している。19世紀末には、⑨義和団事件が起り、その義和団に協力した女性の組織として紅灯照があった。多くは十代の少女で、おとぎ話の世界のコスチュームを身にまとい(下図参照)、「彼女らが空を飛び、ロシアや日本の首都に上空から火を放った」という風説さえも飛び交った。



紅灯照の少女

問 7 文章中の空欄 ⑦ に入れる反乱の名として正しいものを、次の①～④のうちから一つ選べ。 34

- ① 赤眉の乱
- ② 黄巢の乱
- ③ 安史の乱
- ④ 紅巾の乱

問 8 下線部⑧の皇帝の治世について述べた文として正しいものを、次の①～④のうちから一つ選べ。 35

- ① ジュンガルを征服した。
- ② 総理各国事務衙門(総理衙門)を設置した。
- ③ ロシアとの間にキャフタ条約を締結した。
- ④ ホラズム朝(ホラズム＝シャー朝)を滅ぼした。

問 9 下線部⑨について述べた文として正しいものを、次の①～④のうちから一つ選べ。 36

- ① 義和団事件は山西省で勃発した。
- ② 義和団は「扶清滅洋」をスローガンに掲げた。
- ③ 8か国連合軍にはポルトガル軍が参加していた。
- ④ 北京議定書により外国軍隊の上海駐留が認められた。

問題と解答は、独立行政法人 大学入試センターホームページより転載しています。
ただし、著作権上の都合により、一部の問題・画像を省略しています。

日本一の学校情報



<http://www.js88.com>

インターネット塾・予備校情報サイト



<http://jyuku.js88.com>

問題と解答は、独立行政法人 大学入試センターホームページより転載しています。
ただし、著作権上の都合により、一部の問題・画像を省略しています。

日本一の学校情報



<http://www.js88.com>

インターネット塾・予備校情報サイト



<http://jyuku.js88.com>